

แบบปรนัย 5 ตัวเลือก เลือก 1 คำตอบที่ถูกต้องที่สุด จำนวน 50 ข้อ  
ข้อละ 2 คะแนน รวม 100 คะแนน

1. สังคมชมพูทวีปในสมัยพุทธกาลมีการแบ่งชนชั้นวรรณะอย่างชัดเจน วรรณะที่ทำหน้าที่สั่งสอนวิทยาการต่างๆ และทำพิธีกรรมทางศาสนาให้แก่สังคมได้แก่ข้อใด

1. พราหมณ์
2. กษัตริย์
3. แพศย์
4. ศูทร
5. จัณฑาล

2. ความพยายามระงับมิให้ความชั่วเกิดขึ้นในจิต พยายามละความชั่วที่เกิดขึ้นแล้วให้หมดไป พยายามสร้างความดีที่ยังไม่มีให้มี และพยายามรักษาความดีที่มีอยู่แล้ว จัดเข้าในอริยธรรมเรื่องใด 8 ข้อใด

1. สัมมากัมมันตะ
2. สัมมาอาชีวะ
3. สัมมาวาจาเมะ
4. สัมมาทิฐิ
5. สัมมาสติ



3. นิพนธ์เป็นคนมีสัจจะ มีความซื่อสัตย์เป็นพื้นฐาน หมั่นฝึกฝนข่มจิตรักษาใจ เพื่อลดละกิเลส อีกทั้งมีความอดทนต่อคำพูดของผู้อื่นและเสียสละ  
ข้อความนี้แสดงว่านิพนธ์ประพฤติตามหลักธรรมข้อใด
1. อคติ 4
  2. ปธาน 4
  3. อิทธิบาท 4
  4. พรหมวิหาร 4
  5. จราวาสธรรม 4
4. ในบรรดาพระสาวกทั้งหลาย พระพุทธเจ้าทรงยกย่องพระอานนท์ว่ามีความเป็นเลิศหลายด้าน ข้อใดไม่ใช่ความเป็นเลิศของพระอานนท์
1. เป็นผู้มีความเพียรอย่างยิ่ง
  2. เป็นพระธรรมกถึกที่ยอดเยี่ยม
  3. เป็นพหูสูต ผู้คงแก่เรียน ใฝ่รู้ใฝ่สัจ
  4. เป็นผู้มั่งคั่ง ทรัพย์กระจ่างและสิ้นตัวตลอด
  5. เป็นผู้จดจำพระพุทธวจนะได้เป็นอย่างดี



5. พระไตรปิฎกเป็นคัมภีร์ชั้นต้นที่บันทึกคำสอนของพระพุทธเจ้า 3 หมวดใหญ่ๆ คือ พระวินัยปิฎก พระสุตตันตปิฎก และพระอภิธรรมปิฎก ถ้าต้องการศึกษาพระสูตร ซึ่งประมวลหรือรวมคำสอนประเภทเดียวกันไว้เป็นหมวดหมู่ เราควรศึกษาจากหมวดใด

1. สังยุตตนิกาย พระสุตตันตปิฎก
2. อังคุตตรนิกาย พระสุตตันตปิฎก
3. ทิฆมณิกาย พระสุตตันตปิฎก
4. มัชฌิมนิกาย พระสุตตันตปิฎก
5. ขุททกนิกาย พระสุตตันตปิฎก

6. คัมภีร์สำคัญในศาสนาพราหมณ์ที่เรียกว่าเป็น ศรุดิ หมายถึงข้อใด

1. คัมภีร์ที่นักวิชาการแต่งขึ้นภายหลังเพื่ออธิบายขยายความคัมภีร์เก่าๆ
2. คัมภีร์ที่บันทึกเรื่องราวทั้งเก่าและใหม่ที่สืบทอดกันมาด้วยวิธีมุขปาฐะ
3. คัมภีร์ที่เหล่าฤๅษีได้ย่นเสียงทิพย์จากพระผู้เป็นเจ้าแล้วนำมาแต่งเป็นคัมภีร์
4. คัมภีร์ที่พระผู้เป็นเจ้ามีโองการให้พราหมณ์และกษัตริย์ต้องประพฤติตาม
5. คัมภีร์ที่พวกพราหมณ์เขียนขึ้นเองแล้วนำไปเผยแพร่ให้คนทั้งหลายได้รับรู้



7. ข้อใดไม่จัดอยู่ในหลักอภิธานิยธรรม 7 ประการที่กษัตริย์ลิจฉวีแคว้นวัชชี  
ยึดถือปฏิบัติ

1. เคารพบูชาเจดีย์หรืออนุสาวรีย์ประจำชาติ
2. หมั่นประชุม มีความพร้อมเพรียงกัน ไม่ขัดต่อหลักการเดิม
3. จัดการคุ้มครองอารักขาพระอรหันต์ทั้งหลายภายในแคว้นวัชชี
4. แต่งตั้งรัชทายาทให้คอยสอดส่องดูแลความเดือดร้อนของประชาชน
5. ให้ความคุ้มครองเหล่าอุลลัสตรีทั้งหลายไม่ให้ถูกรังแก และเคารพนับถือผู้ให้ส่วย

8. บุคคลในข้อใดปฏิบัติตนตามหลักคุณจิวัฏฐิติธรรม 4 ซึ่งเป็นหลักธรรมสำหรับดำรง  
ความมั่นคงของตระกูลให้ยั่งยืน ได้อย่างถูกต้อง

1. สูดาสงเคราะห์ช่วยเหลือและทำสิ่งที่เป็นประโยชน์ต่อเพื่อนบ้านอยู่เสมอ
2. นิหารู้จักประมาณในการใช้จ่าย เมื่อสิ่งของจำเป็นในบ้านขาดก็ทำการซ่อมแซมให้ดี
3. ประพจน์แบ่งทรัพย์ที่หามาได้เพื่อเลี้ยงตนเอง เลี้ยงครอบครัว ใช้ประกอบอาชีพ และเก็บออม
4. สมรักษ์บำรุงภรรยาโดยยกย่อง ไม่ดูหมิ่น มอบหน้าที่ในครัวเรือนและจัดหาเครื่องแต่งกายให้
5. สุนัยเสียงดูบิดามารดา ช่วยทำงานของท่าน และเมื่อบิดามารดาตั้งระดับไปแล้วก็ทำบุญอุทิศให้



9. พิธีปวารณาที่พระสงฆ์กระทำในเทศกาลวันออกพรรหามีจุดมุ่งหมายสำคัญเพื่ออะไร
1. ให้พระสงฆ์รู้จักปรับปรุงแก้ไขสิ่งที่บกพร่องจากข้อเสนอนำมาของผู้อื่น
  2. ให้ชาวพุทธระลึกถึงพระพุทธรูป พระธรรม พระสงฆ์ ในคราวเดียวกัน
  3. ประกาศว่าพระสงฆ์สามารถไปค้างแรมในที่ต่างๆ ได้โดยไม่ผิดวินัย
  4. ให้ประชาชนได้สร้างสวบุญด้วยการถวายทานแด่พระสงฆ์
  5. แสดงความกตัญญูต่อบุคคลผู้ที่ต่อญาติผู้ล่วงลับไปแล้ว
10. การละเว้นความชั่ว การดำรงแต่คุณงามความดี และการทำจิตใจให้ผ่องใส เป็นหลักธรรมสำคัญที่พระพุทธเจ้าตรัสสอนในวันใด
1. อาสาขบรูชา
  2. เทโวโรหณะ
  3. อัญฐัมมัญชา
  4. วิสาขบูชา
  5. มาฆบูชา



11. ข้อใดไม่ใช่ข้อบังคับประกอบของรัฐ :

1. ต้องมีประชากรจำนวนหนึ่ง
2. ต้องมีดินแดนอันแน่นอนของรัฐ
3. ต้องมีอำนาจอธิปไตย
4. ต้องมีกองกำลังทหาร
5. ต้องมีรัฐบาล

12. ข้อใดต่อไปนี้เป็นไม่ใช่เรื่องการจัดระเบียบสังคม

1. การที่ครูต้องเป็นแบบอย่างแก่ลูกศิษย์
2. การมีค่านิยมในการแสวงหาทรัพย์สิน
3. การปฏิบัติตามกฎจราจรเพราะก่อให้เกิดความปลอดภัย
4. ศตวรรษใหม่และต้องพระภิกษุสงฆ์
5. การเข้าแถวเพื่อรับบริการ




13. ข้อใดเป็นคำกล่าวที่ไม่ถูกต้องเกี่ยวกับการปกครองของไทยในปัจจุบัน (พ.ศ. 2558)
1. สภานิติบัญญัติแห่งชาติทำหน้าที่สภาผู้แทนราษฎร วุฒิสภา และรัฐสภา
  2. ประเทศไทยเป็นรัฐเดี่ยวแต่ก็มีการกระจายอำนาจการปกครองไปยังท้องถิ่น
  3. สภาปฏิรูปแห่งชาติมีหน้าที่คู่ขนานกับสภานิติบัญญัติแห่งชาติในการออกกฎหมาย
  4. กรุงเทพมหานครเป็นการปกครองระดับท้องถิ่นรูปแบบพิเศษ
  5. คณะกรรมการยกร่างรัฐธรรมนูญแต่งตั้งจากบุคคลต่างๆ ดังนี้คือ ประธานกรรมการสภาปฏิรูปแห่งชาติ สภานิติบัญญัติแห่งชาติ คณะรัฐมนตรี และคณะกรรมการความสงบเรียบร้อยแห่งชาติ

14. ประมวลกฎหมายแพ่งและพาณิชย์ บัญญัติว่า “การจำนำ คือการที่ผู้จำนำ  
ตั้งมอบสิ่งทรัพย์สินที่พึงได้ให้ผู้รับจำนำเพื่อเป็นประกันการชำระหนี้”

ทรัพย์สินที่มีลักษณะดังต่อไปนี้

1. เงิน
2. บ้านและที่ดิน
3. วัสดุ
4. เครื่องพิมพ์ดีด
5. รถยนต์



15. ข้อใดเป็นข้อความที่ถูกต้องที่สุดของ “คดีอาญา”

1. พี่น้องจะฟ้องร้องกันเป็นคดีอาญาไม่ได้
2. หลานจะฟ้องยายเป็นคดีแพ่งไม่ได้
3. ผู้สืบสันดานจะฟ้องบุพการีไม่ว่าคดีแพ่งหรือคดีอาญาก็ได้
4. บุตรจะฟ้องร้องพ่อแม่เป็นคดีแพ่งไม่ได้
5. บุตรจะฟ้องร้องพ่อแม่เป็นคดีแพ่ง หรือคดีอาญาไม่ได้

16. ประมวลกฎหมายแพ่งและพาณิชย์ มาตรา 653 วรรคแรก บัญญัติว่า “การกู้ยืมเงินกว่าสองพันบาทขึ้นไปนั้น ถ้ามิได้มีหลักฐานเป็นหนังสืออย่างใดอย่างหนึ่งลงลายมือชื่อผู้ยืมเป็นสำคัญจะฟ้องร้องให้บังคับคดีหาได้ไม่”

ข้อใดต่อไปนี้เป็นข้อความที่ถูกต้อง

1. การกู้ยืมเงินเกินกว่าสองพันบาท ต้องทำเป็นสัญญาจึงจะฟ้องร้องได้
2. การกู้ยืมเงินเกินกว่าสองพันบาท แม้ไม่ได้ทำสัญญาหากผู้ยืมจดหมายแจ้งขอผ่อนผันการชำระเงินดังกล่าวผู้ให้กู้ฟ้องร้องได้
3. การกู้ยืมเงินเกินกว่าสองพันบาท ถ้าไม่มีหลักฐานเป็นหนังสือจะฟ้องร้องได้ไม่เกินสองพันบาท
4. การกู้ยืมเงินเกินกว่าสองพันบาท ต้องมีหลักฐานเป็นหนังสือ มิฉะนั้นสัญญาไม่เป็นโมฆะ
5. การกู้ยืมเงินเกินกว่าสองพันบาท ต้องมีหลักฐานเป็นหนังสือ มิฉะนั้นสัญญาเป็นโมฆะ



17. ประมวลกฎหมายอาญา มาตรา 276 บัญญัติว่า “ผู้ใดข่มขืนกระทำชำเราผู้อื่นโดยขู่ด้วยประการใดๆ โดยใช้กำลังประทุษร้าย โดยผู้นั้นอยู่ในภาวะที่ไม่สามารถขัดขืนหรือโดยทำให้ผู้นั้นเข้าใจผิดว่าตนเป็นบุคคลอื่น ต้องระวางโทษจำคุกตั้งแต่สี่ปีถึงยี่สิบปี และปรับตั้งแต่แปดพันบาทถึงสี่หมื่นบาท”

ข้อใดต่อไปนี้เป็นความผิดตามมาตรา 276

1. นายแดง ชำเราคนนางสาวเดือน นายแดงมีความผิดฐานข่มขืนกระทำชำเรา
2. นายแดง ชำเราสุนัขของนางสาวเดือนโดยนางสาวเดือนไม่ยินยอม นายแดงมีความผิดฐานข่มขืนกระทำชำเรา
3. นายแดง ชำเรานางสาวเดือนเพราะนางสาวเดือนหลงเชื่อว่ที่นายแดงอ้างว่าเป็นดาราชื่อดัง นายแดงมีความผิดฐานข่มขืนกระทำชำเรา
4. นายแดง ชำเรานางสาวเดือนเพราะนางสาวเดือนค้าประเวณีซึ่งผิดกฎหมาย นายแดงมีความผิดฐานข่มขืนกระทำชำเรา
5. นายแดง ชำเรานางสาวเดือนขณะนอนหลับอยู่เพราะคิดว่านางสาวเดือนให้ทำ นายแดงมีความผิดฐานข่มขืนกระทำชำเรา



18. ข้อใดเป็นการเรียงลำดับ “ทายาทโดยธรรม” ที่ถูกต้องตามกฎหมาย

1. ผู้สืบสันดาน/บิดา มารดา/พี่น้องร่วมบิดามารดาเดียวกัน/ปู่ ย่า ตา ยาย/พี่น้องร่วมบิดาหรือร่วมมารดาเดียวกัน/ลุง ป้า น้า อา
2. ผู้สืบสันดาน/บิดา มารดา/พี่น้องร่วมบิดามารดาเดียวกัน/พี่น้องร่วมบิดาหรือร่วมมารดาเดียวกัน/ปู่ ย่า ตา ยาย/ลุง ป้า น้า อา
3. ผู้สืบสันดาน/บิดา มารดา/ปู่ ย่า ตา ยาย/พี่น้องร่วมบิดามารดาเดียวกัน/พี่น้องร่วมบิดาหรือร่วมมารดาเดียวกัน/ลุง ป้า น้า ล
4. ผู้สืบสันดาน/บิดา มารดา/คู่สมรส/พี่น้องร่วมบิดามารดาเดียวกัน/พี่น้องร่วมบิดาหรือร่วมมารดาเดียวกัน/ปู่ ย่า ตา ยาย
5. ผู้สืบสันดาน/คู่สมรส/บิดา มารดา/พี่น้องร่วมบิดามารดาเดียวกัน/พี่น้องร่วมบิดาหรือร่วมมารดาเดียวกัน/ปู่ ย่า ตา ยาย



19. จากเหตุการณ์เมื่อวันที่ 31 พ.ศ. 2558 ที่ตำรวจ สน.ตลาดพลู และเจ้าหน้าที่ทหาร ได้ทำการสกัดจับเด็กแว้นถนนบริเวณสะพานราชพฤกษ์.....ในนี้เป็นเยาวชนอายุ 15 - 18 ปี จำนวน 108 คน ซึ่งศาลได้พิจารณาให้กลุ่มเยาวชนดังกล่าวเข้ารับการอบรมพฤติกรรมโดยสถานพินิจฯ ก่อนเข้ากระบวนการพิจารณาคดีต่อไป ส่วนที่เหลือเป็นกลุ่มผู้ที่มีอายุต่ำกว่าและสูงกว่ากลุ่มอายุของเยาวชนดังกล่าว

ข้อใดเป็นข้อที่ถูกต้องตามประมวลกฎหมายอาญา

1. ผู้กระทำผิดอายุ 15-18 ปีมีความรับผิดชอบทางอาญาเหมือนกรณีผู้ถือ เขมามากกว่านั้น
2. ผู้กระทำผิดอายุ 15-18 ปีไม่มีความรับผิดชอบทางอาญาแต่ต้องเข้าสถานพินิจฯ เพื่ออบรม
3. ผู้กระทำผิดอายุน้อยกว่า 15 ปี กฎหมายยกเว้นโทษให้
4. ผู้กระทำผิดอายุน้อยกว่า 15 ปี กฎหมายขลวงวันความผิดให้
5. ผู้กระทำผิดอายุต่ำกว่า 10 ปี ไม่มีความรับผิดชอบทางอาญาก็จริงแต่ต้องเข้าสถานพินิจฯ เพื่ออบรม



20. ข้อใดเป็นข้อความที่ถูกต้องสำหรับระบบกฎหมายไทย

1. ระบบกฎหมายไทยเป็นระบบชีวิตลอร์ดตั้งแต่สมัยรัชกาลที่ ๑ เพราะใช้ “กฎหมายตราสามดวง” ซึ่งเป็นลายลักษณ์อักษรเป็นหลัก
2. ระบบกฎหมายไทยเป็นระบบชีวิตลอร์ดเพราะใช้พระราชบัญญัติซึ่งเป็นกฎหมายลายลักษณ์อักษรเป็นหลัก
3. “กฎหมายลักษณะอาญา ร.ศ.127” คือประมวลกฎหมายฉบับแรกของไทย
4. ระบบกฎหมายไทยเป็นระบบชีวิตลอร์ดตั้งแต่สมัยรัชกาลที่ ๕ เพราะประกาศใช้ “ประมวลกฎหมายอาญา”
5. กรมหลวงราชบุรีฯ พระบิดาแห่งกฎหมายไทยทรงเป็นผู้เลือกให้ใช้ระบบประมวลกฎหมายในประเทศไทย

21. ข้อใดอธิบายลักษณะเด่นของระบบเศรษฐกิจสังคมนิยม

1. ผลิตสินค้าตามความต้องการ
2. รัฐบาลวางแผนจากส่วนกลาง
3. คนในสังคมมีสิทธิเลือกงานทำอย่างเสรี
4. ประชาชนเป็นเจ้าของปัจจัยในการผลิต
5. ผู้แทนราษฎรเป็นผู้ที่ได้รับความนิยมมากที่สุดในสังคม



22. เมื่อราคาข้าวตกต่ำ รัฐบาลและเอกชนคิดโครงการที่จะแปรรูปผลิตภัณฑ์ข้าวสำเร็จรูปหลากหลายชนิด ทำให้เกิดผลต่อเส้นอุปสงค์หรือเส้นอุปทานข้าวอย่างไร

1. เส้นอุปทานเคลื่อนไปทางซ้าย
2. เส้นอุปทานเคลื่อนไปทางขวา
3. เส้นอุปสงค์เคลื่อนไปทางซ้าย
4. เส้นอุปสงค์เคลื่อนไปทางขวา
5. ไม่มีผลต่ออุปสงค์และอุปทาน

23. ค่าจ้างแรงงานขั้นต่ำปัจจุบันอยู่ที่ 300 บาท ขณะเดียวกัน ค่าครองชีพสูงขึ้นเรื่อยๆ จนเกินค่าจ้างแรงงานขั้นต่ำ สหภาพแรงงานจึงเรียกร้องขอให้เพิ่มค่าจ้างแรงงานขั้นต่ำเป็น 360 บาท จะมีผลกระทบต่อเศรษฐกิจมหภาคโดยรวม อย่างไร

1. ทำให้ราคาสินค้าต่ำลง
2. ไม่มีผลต่อการลงทุนระหว่างประเทศ
3. ทำให้แรงงานจากประเทศเพื่อนบ้านเคลื่อนย้ายกลับไป
4. ทำให้สินค้าส่งออกมีราคาต่ำจนแข่งขันกับประเทศคู่แข่งได้
5. อาจทำให้การลงทุนต่างประเทศพิจารณาย้ายการผลิตไปยังประเทศที่ค่าแรงยังถูกกว่า



24. สาเหตุสำคัญที่ทำให้ระบบสหกรณ์ในประเทศไทยไม่ประสบความสำเร็จคือข้อใด

1. ตลาดทุนมีจำกัด
2. ตลาดมีหลายขนาด
3. สหกรณ์มีขนาดใหญ่เกินไป
4. พืชผลเกษตรกรรมไม่เหมาะที่จะจัดการด้วยระบบสหกรณ์
5. สมาชิกและผู้บริหารขาดวินัยไม่ปฏิบัติตามกฎระเบียบ

25. หลักปรัชญาที่สำคัญที่สุดที่อยู่เบื้องหลังของเศรษฐกิจพอเพียงคือข้อใด

1. ผลผลิตสินค้าชนิดเดียวให้เกิดความชำนาญเพื่อลดต้นทุนการผลิต
2. ควรมีพื้นที่เพาะปลูกขนาดใหญ่เพื่อที่จะได้ใช้เครื่องจักรให้คุ้มค่า
3. กระจายความเสี่ยงโดยผลิตสินค้าบริการหลายชนิด
4. ผลิตสินค้าชนิดเดียวแต่ให้มีปริมาณมากพอ
5. ผลิตสินค้าที่หายากในท้องถิ่นนั้น



26. การสร้างความสมดุลตามแนวคิดเศรษฐกิจพอเพียงนั้น เน้นให้เกิดความสมดุลระหว่างสิ่งใดมากที่สุด

1. ภูมิคุ้มกันสิ่งแวดล้อม
2. อุดสาหกรรมกับเกษตรกรรม
3. สินค้าในประเทศกับสินค้านำเข้าต่างประเทศ
4. ความเจริญทางเทคโนโลยีกับภูมิปัญญาไทย
5. ความสมดุลของเศรษฐกิจระหว่างประเทศ

27. การพัฒนาเศรษฐกิจตามแผน ฉบับที่ผ่านๆ มาถือให้เกิดผลประการใดบ้าง

1. ทรัพยากรธรรมชาติและสิ่งแวดล้อมถูกทำลายมากขึ้น
2. ภาคเกษตรกรรมขยายตัวมากกว่าภาคอุตสาหกรรม
3. การกระจายรายได้เป็นธรรมมากขึ้น
4. ชาวไทยมีอัตราการออมสูงขึ้น
5. เศรษฐกิจพึ่งพาตนเองได้



28. ข้อใดไม่ใช่หนี้สาธารณะ

1. รัฐบาลขายตัวสัญญาใช้เงิน
2. รัฐบาลประกาศขายตัวเงินคลัง
3. รัฐบาลค้ำประกันเงินกู้ให้รัฐวิสาหกิจ
4. ธนาคารไทยพาณิชย์กู้ยืมเงินจากต่างประเทศ
5. ธนาคารแห่งประเทศไทยจำหน่ายพันธบัตรรัฐบาล

29. การกระตุ้นเศรษฐกิจทำได้โดยการใช้งบประมาณภาครัฐแบบใด

1. งบประมาณสมดุล
2. งบประมาณเกินดุล
3. งบประมาณขาดดุล
4. งบประมาณได้ดุล
5. งบประมาณที่ได้รับอนุมัติจากรัฐสภา

30. สถานการณ์ข้อใดเป็นมาตรการกีดกันการค้าระหว่างประเทศ

1. การยกเลิกพิกัดภาษีศุลกากร
2. การกำหนดมาตรฐานสินค้าส่งออกและนำเข้า
3. การไม่กำหนดโควต้าสินค้าส่งออกและนำเข้า
4. การไม่กำหนดจำนวนเงินในการแลกเปลี่ยนเงินตราต่างประเทศ
5. การไม่กำหนดสิทธิพิเศษทางการค้ากับประเทศในกลุ่มหรือนอกกลุ่ม





31. พัฒนาการในข้อใดเป็นลักษณะที่สำคัญที่สุดของสังคมมนุษย์ในยุคโลหะ

1. การจัดระเบียบการปกครอง
2. การสร้างภาษาเขียนขึ้นใช้
3. การเพาะปลูกและเลี้ยงสัตว์
4. การอยู่ร่วมกันเป็นสังคมเมือง
5. การนำโลหะต่างชนิดมาผสมกันเพื่อสร้างเครื่องมือเครื่องใช้

32. ประมวลกฎหมายของพระเจ้าอัมมวราปีที่มียบทลงโทษซึ่งเป็นที่รู้จักกันดี คือ

“ดาโลดาพันต่อพัน” เป็นกฎหมายของชาติใด

1. ฮีบรู
2. กรีก
3. อาหรับ
4. โรมัน
5. อะมาไรต์



33. ขนชาติใดเป็นผู้คิดค้นระบบทศนิยมซึ่งเป็นที่ใช้แพร่หลายอยู่ในโลกจนถึงปัจจุบัน

1. อาหรับ
2. โรมัน
3. อินเดีย
4. กรีก
5. ฮีบรู

34. สงครามใดที่เป็นการสู้รบกันระหว่างชนชาติต่างๆ ในตะวันออก กับ ขนชาติต่างๆ ในตะวันตก

1. สงครามครูเสด
2. สงครามร้อยปี
3. สงครามสิบ
4. สงครามร้อย
5. สงครามพิวนิค

35. นักวิทยาศาสตร์คนใดได้ชื่อว่าเป็นผู้ปฏิวัติแนวคิดทางดาราศาสตร์ กล่าวคือ เขามีความคิดว่าดวงอาทิตย์เป็นศูนย์กลางของจักรวาล ซึ่งตรงข้ามกับแนวความคิดเดิมที่มีมาแต่โบราณ
1. กาลิเลโอ กาลิเลอี
  2. ปโตเลมี
  3. โยฮัน เคปเลอร์
  4. นีโคลัส คอเปอร์นิคัส
  5. ไอแซค นิวตัน
36. การปฏิวัติทางวิทยาศาสตร์และอุตสาหกรรมในยุโรป ก่อให้เกิดผลกระทบตามมาที่สำคัญที่สุดในข้อใด
1. ยุโรปมีระบบการผลิตเกษตรกรรมใหม่
  2. ยุโรปกลายเป็นประเทศอุตสาหกรรม
  3. จำนวนประชากรของยุโรปเพิ่มขึ้นมากอย่างรวดเร็ว
  4. ประเทศในยุโรปแข่งขันกันแสวงหาอาณานิคม
  5. ยุโรปกลายเป็นมหาอำนาจ



37. อะไรไม่ใช่สาเหตุสำคัญของการเกิดสงครามโลกครั้งที่ 2

1. การแบ่งค่ายของประเทศมหาอำนาจ
2. การสะสมกำลังอาวุธของประเทศมหาอำนาจ
3. การปฏิวัติอุตสาหกรรมช่วงสงคราม
4. สหรัฐอเมริกาไม่ได้เป็นสมาชิกสันนิบาตชาติ
5. เยอรมันและญี่ปุ่นเข้ายึดครองดินแดนในหลายประเทศ

38. ที่เรียกกันว่า “กึ่งพุทธกาล” หรือ พ.ศ. 2500 ตรงกับร.ศ. หรือรัตนโกสินทร์ศกใด

1. ร.ศ. 175
2. ร.ศ. 176
3. ร.ศ. 177
4. ร.ศ. 178
5. ร.ศ. 179

39. จุดประสงค์สำคัญที่สุดของขบวนการเสรีไทย คืออะไร

1. เชิดชูและเผยแพร่ลัทธิไทยนิยม
2. พักกองกำลังให้สู้ศึกในอารักขาสงคราม
3. สร้างความน่าเชื่อถือให้ประเทศไทยในตะวันตก
4. แสวงหาความร่วมมือจากฝ่ายตรงข้ามของอักษะ
5. คัดค้านญี่ปุ่นและขับไล่ญี่ปุ่นออกจากประเทศไทย

40. ข้อใดไม่ใช่ประกาศของทางราชการในสมัยรัชกาลที่ 4
1. ห้ามราษฎรรับจ้างชาวตะวันตกทำงาน
  2. ให้เสรีภาพประชาชนในการนับถือศาสนา
  3. ห้ามเอาคนเฒ่าแก่มาประทุษร้ายเป็นทาส
  4. ให้บางเฒ่าออกจากพระบรมมหาราชวังได้
  5. ห้ามบังคับสตรีให้แต่งงาน หากสตรีผู้นั้นไม่เต็มใจ
41. สาเหตุสำคัญที่ยอดเขาคลีฟมาจาโร ในทวีปแอฟริกาซึ่งมีความสูง 5,895 เมตร มีหิมะปกคลุมตลอดปีคือข้อใด
1. ได้รับความอิทธิพลกระแสน้ำเย็นที่มาจากขั้วโลกใหลผ่าน
  2. อิทธิพลความผกผันอุณหภูมิติดลบช่วงกลางคืนของทะเลทรายซาฮารา
  3. กระแสอากาศเย็นเบื้องสูงที่พัดจากขั้วโลกใต้เป็นลมประจำถิ่น
  4. ความสัมพันธ์ระหว่างการผันแปรของอุณหภูมิกับความต่างระดับความสูงในภูมิภาค
  5. ตั้งอยู่ในเขตภูมิอากาศอบอุ่นและความสูงของยอดเขา

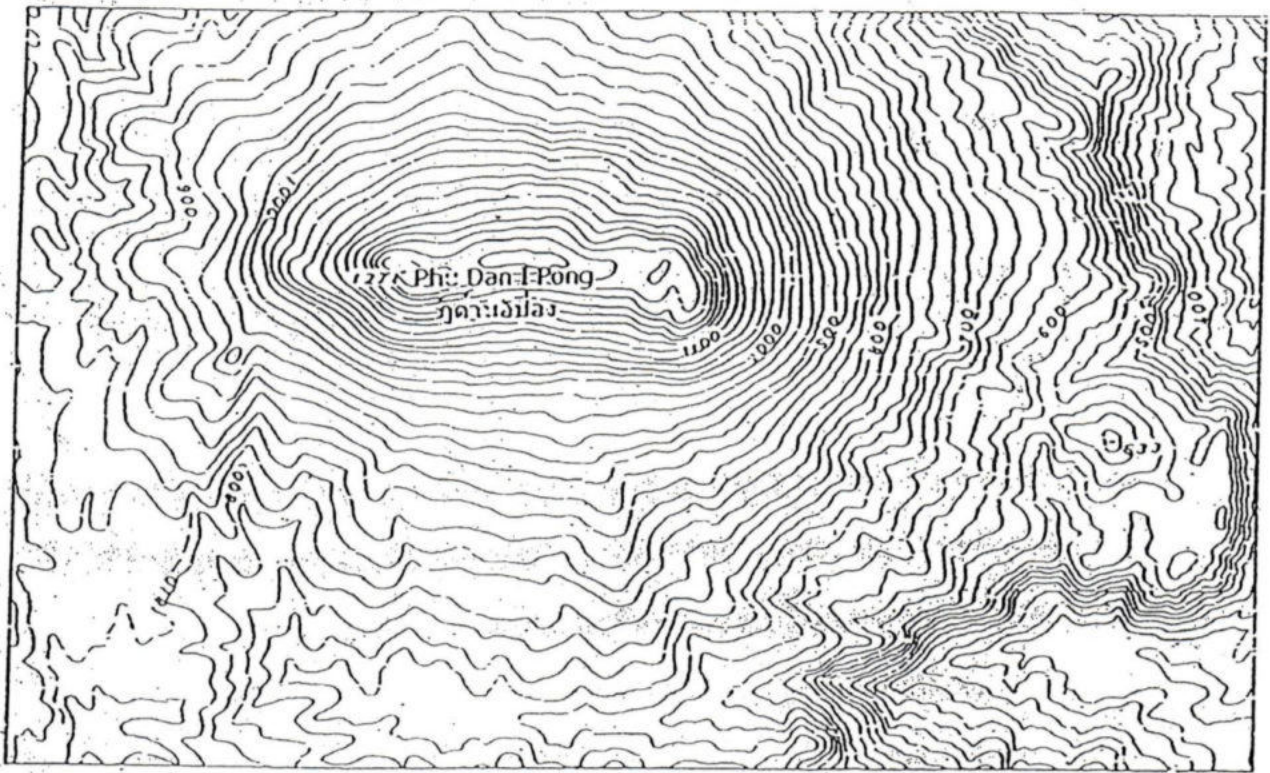


42. ข้อใดถือว่าเป็นการฟื้นฟูบูรณะดินเค็มที่แพร่กระจายในพื้นที่ต่างๆ ของประเทศ  
อย่างได้ผลดีที่สุด

1. การออกกฎหมายห้ามการทำนาเกลือสินเธาว์
2. การใช้เทคโนโลยีพันธุวิศวกรรมกระจายดินเค็ม
3. การเพิ่มพื้นที่ป่าไม้และปลูกพืชพันธุ์ทนดินเค็ม
4. การสร้างแหล่งน้ำชะล้างละลายลดความเค็มของดิน
5. การวนคืนพื้นที่ที่เป็นแหล่งกำเนิดและแพร่กระจายดินเค็ม



จากแผนที่ ให้ออกคำตอบข้อ 43 - 45



43. ความต่างระดับของแต่ละเส้นชั้นความสูงเท่า (Contour Line) มีค่ากี่เมตร

1. 5
2. 10
3. 15
4. 20
5. 25

44. ระยะทางจริงระหว่างยอดเขาสูงสุด (ภูด่านอีป้อง) 1,271 เมตร ถึงยอดเขาอีก

แห่งหนึ่งสูง 633 เมตร วัดได้ 22.5 กิโลเมตร ถ้าระยะทางในแผนที่วัดได้

9 เซนติเมตร แผนที่นี้ใช้มาตราส่วนเท่าใด

1. 1 : 50,000
2. 1 : 22,500
3. 1 : 125,000
4. 1 : 225,000
5. 1 : 250,000





45. บริเวณยอดดอยภูต่านี้อีป้อม ที่มีความสูงเกินกว่า 1,200 เมตร จากระดับน้ำทะเล พืชพันธุ์ป่าไม้ที่ปกคลุม บริเวณดังกล่าวจะมีลักษณะตรงข้อใดมากที่สุด
1. ป่าไม้เบญจพรรณสูง
  2. ป่าดงดิบแล้ง
  3. ป่าดิบชื้น
  4. ป่าสนเขา
  5. ป่าดิบเขา
46. การสร้างบ้านบนที่โล่งแจ้งในภาคกลางของประเทศไทย ได้วางตำแหน่งที่ตั้งบ้าน ในแนวเดียวกันกับการโคจรของดวงอาทิตย์แต่หน้าบ้านอยู่ทางทิศเหนือ ห้องนอน ควรตั้งอยู่ทิศใดจึงจะได้รับลมและอุณหภูมิเหมาะสมอยู่สบายตามธรรมชาติตลอดปี
1. ทิศเหนือ
  2. ทิศตะวันตกเฉียงใต้
  3. ทิศตะวันออกเฉียงใต้
  4. ทิศตะวันตกเฉียงเหนือ
  5. ทิศตะวันออกเฉียงเหนือ



47. จากลักษณะตำแหน่งที่ตั้งบนผิวโลกของกรุงเทพฯ กับนครเวียงจันทน์

ข้อใดกล่าวถูกต้อง

1. กรุงเทพฯ มีความแตกต่างของเวลากลางวันและกลางคืนมากกว่านครเวียงจันทน์
2. นครเวียงจันทน์มีความแตกต่างของเวลากลางวันและกลางคืนมากกว่ากรุงเทพฯ
3. นครเวียงจันทน์อยู่ใกล้จุดศูนย์กลางของโลกมากกว่ากรุงเทพฯ
4. กรุงเทพฯ ตั้งอยู่ใกล้เส้นศูนย์สูตรมากกว่านครเวียงจันทน์
5. กรุงเทพฯ มีเวลาท้องถิ่นเร็วกว่าเวลาของนครเวียงจันทน์

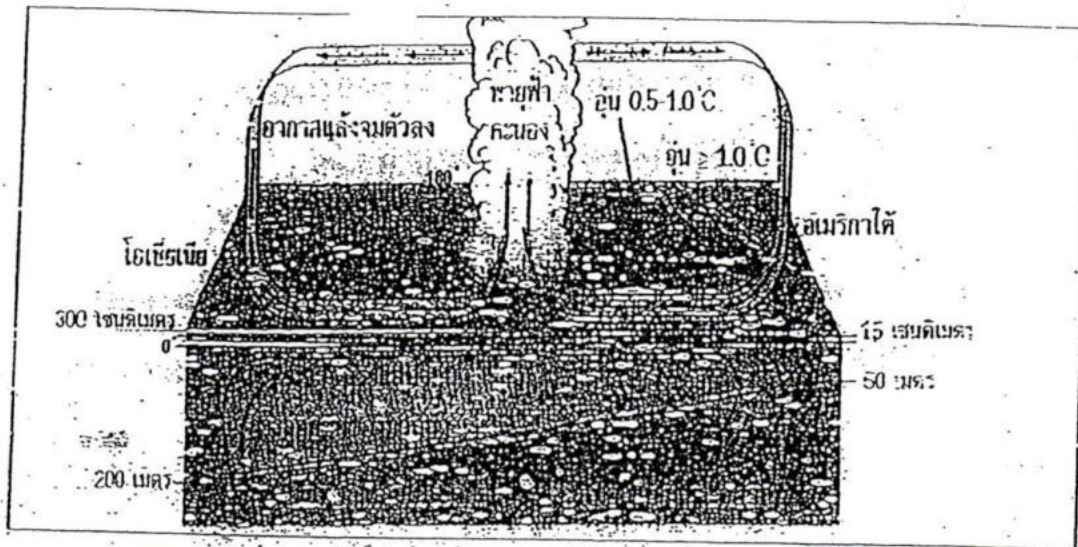
48. การก่อสร้างในกลุ่มจังหวัดใดไม่จำเป็นต้องออกแบบอาคารรองรับความเสี่ยงจาก

แผ่นดินไหว

1. ตราด สุรินทร์ อุบลราชธานี
2. แม่ฮ่องสอน ตาก ชอนแก่น
3. เชียงราย แพร่ นนทบุรี
4. จันทบุรี สระแก้ว น่าน
5. เชียงใหม่ เลย บึงกาฬ



จากภาพใช้ตอบคำถามข้อ 49 - 50



49. ระบุภูมิที่เื่ออธิบายการเกิดปรากฏการณ์ของโลก

1. ภูเขาไฟ
2. โอลิมปัส
3. กอระแอต
4. ~~การเกิดคราฟต์และไฟอัน~~
5. พายุหมุนและฝนฟ้าคะนอง



50. ความแห้งแล้งที่เกิดขึ้นบริเวณพื้นที่ด้านแปซิฟิกตะวันตกและภูมิภาคอาเซียน  
เนื่องจากสาเหตุใด

1. สภาพอากาศหลังจมน้ำท่วมและอุณหภูมิที่ในมหาสมุทรสูงขึ้น
2. การจมน้ำท่วมของปริมาณมวลน้ำอุ่นและอากาศแห้ง
3. กระแสน้ำอุ่นและพายุฝนฟ้าคะนองดึงความเย็นจึงแห้งแล้ง
4. อุณหภูมิร้อนอบอ้าวเพิ่มเฉลี่ยสูงขึ้น 1 องศาเซลเซียสทำให้แห้งแล้ง
5. อากาศแห้งและความร้อนแผ่จากมวลน้ำจมน้ำทำให้เกิดความร้อนแห้งแล้ง

